



آمادگی و دبستان دفترانه غیردولتی

سرکوش نو

الف) دخترم گزینه صحیح را انتخاب کن.



۱- شکل روبه رو مربوط به کدام کسر است؟

- الف) $\frac{1}{4}$ ب) $\frac{1}{3}$ ج) $\frac{1}{2}$ د) $\frac{2}{3}$

۲- اگر ۴ برابر عددی ۴۸ باشد. $\frac{1}{3}$ آن عدد چقدر است؟

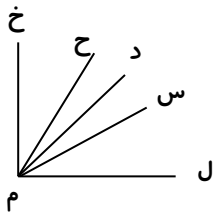
- الف) ۴ ب) ۸ ج) ۱۲ د) ۱۶

۳- در الگوی عدد مقابل عدد بعدی کدام است؟

۲۴۰ و ۳۵۰ و ۴۶۰ و ۵۷۰ و.....

- الف) ۵۸۰ ب) ۶۹۰ ج) ۵۷۰ د) ۶۸۰

۴- در شکل روبه رو چند زاویه دیده می شود؟



- الف) ۱۰ ب) ۵ ج) ۸ د) ۴

۵- حاصل جمع $\frac{3}{100} + \frac{2}{50}$ چند است؟

- الف) $\frac{5}{100}$ ب) $\frac{5}{50}$ ج) $\frac{7}{100}$ د) $\frac{7}{50}$


۶- در عدد $\frac{5}{9}$ ، رقم ۹ در کدام مرتبه قرار دارد؟

- الف) صدگان ب) دهم ج) یکان د) دهگان

۷- ۵ نان را بین ۴ نفر به طور مساوی تقسیم می کنیم به هر نفر چقدر می رسد؟ (با رسم شکل)

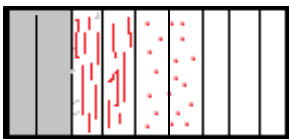
- الف) $\frac{4}{5}$ ب) $1\frac{1}{4}$ ج) $\frac{1}{4}$ د) $\frac{3}{4}$

۸- می خواهیم دوره پرده ای مستطیل شکل به طول ۶ و عرض ۲ متر را نوار بدوزیم. چند متر نوار لازم داریم؟



۹- اگر بخواهیم در مخزن روبه رو آب بریزیم، کدام گزینه بیشترین فضای مخزن را پر می کند؟

- الف) $\frac{1}{2}$ ب) $\frac{1}{3}$ ج) $\frac{1}{4}$ د) $\frac{1}{8}$



۱۰- برای شکل زیر یک تساوی ضرب بنویس.

۱۱- گنجایش باک خودرویی ۶۰ لیتر است. اگر ۱۵/۸ لیتر بنزین در آن بریزیم پر می شود. الان باک چند لیتر بنزین

دارد؟

۱۲- ۳۵ جعبه پرتقال داریم . در هر جعبه ۷۲ عدد پرتقال است. می خواهیم تمام این پرتقالها را در ۷۲ جعبه ی کوچکتر

بسته بندی کنیم. در هر جعبه چند پرتقال قرار می گیرد؟

۱۳- مریم ساعت ۵:۵۶ از خانه خارج شد و ساعت ۷:۳۰ به مدرسه رسید او چند دقیقه در راه بوده است؟

۱۴- حاصل عبارتهای زیر را بدست آورید؟

$$\frac{12}{16} - \frac{2}{8} =$$

$$\left(5 \times \frac{3}{20}\right) - \left(5 \times \frac{3}{20}\right) =$$

$$0/5 + 0/6 =$$

$$14/7 - 9/3 =$$

۱۵- در جاهای خالی علامت مناسب بگذارید.

$$\frac{2}{11} \square \frac{5}{22}$$

$$\frac{5}{6} \square 1$$

$$0/8 \square 0/2$$

زاویه باز زاویه راست

